

Segundo A

Fecha: J. 21. 11. 1985

Tiempo: 50'

- 1p. (1) Def. de sucesión decreciente
- 1p. (2) Def. de sucesión acotada superiormente
- 1p. (3) Definición de límite finito
- 2p. (4) Siendo $f: \mathbb{N} \rightarrow \mathbb{Z}$, $n \rightarrow -2n+3$, $g: \mathbb{Z} \rightarrow \mathbb{Q}$, $z \rightarrow \frac{z}{-6} + \frac{1}{2}$, hallar $g \circ f$
- 1p. (5) ¿Tienen inversa las sucesiones $a_n = 6n - 30$ y $b_n = n + 8$?
- 2p. (6) Estudiar la monotonía y la acotación de $x_n = n^2 - n + 2$
- 2p. (7) $\lim \left(\frac{2 + \frac{3}{n^2}}{n^3 + n} + n^2 - 5 \right)$

Para subir calificación

- (1) Escribir la def. de límite finito y explicar la idea que representa.
- (2) ¿Una sucesión decreciente puede tener por límite ∞ ? ¿Y $-\infty$? Explicarlo.
- (3) ¿Toda sucesión convergente debe ser acotada? ¿Toda suc. acotada debe ser convergente? Explicar.

Segundo B

Fecha: M. 26.11.1985

Tiempo: 50'

1p. ① Def. de sucesión creciente

1p. ② Def. de sucesión acotada inferiormente

1p. ③ Definición de límite finito

2p. ④ Siendo $f: \mathbb{Q} \rightarrow \mathbb{Q}$, $q \rightarrow -2q + 4$, hallar f^{-1}

1p. ⑤ ¿Tienen inversa las sucesiones $a_n = 4 - \sqrt{n}$ y $b_n = \frac{3n+1}{2}$? ¿Por qué?

2p. ⑥ Estudiar la monotonía y la acotación de $x_n = 2n^2 + 3n$

2p. ⑦ $\lim \left(n^2 + n - \frac{\frac{1}{n} + 1}{n + \frac{1}{n}} - 6 \right)$

Para subir calificación

① Escribir la definición de límite ^{menor} infinito y explicar la idea que representa

② ¿Una sucesión divergente puede ser acotada? ¿Y una monótona creciente?

③ Si $a_n, b_n \rightarrow \infty$, $\lim \frac{a_n}{b_n}$ es indeterminado. Pon tres ejemplos en los que el límite salga ∞ , 5 y 0, respectivamente.

1.5 ① Def. lim. finito de un seq., def. dominio de una función

1 ② $\lim (2n + 5n^2 - 3n^3 + 5n^4)$

1.5 ③ $\lim (\sqrt{n^2-1} - \sqrt{n^2+1})$

1.5 ④ $\lim \left(\frac{n+6}{n+3} \right)^{2n}$

1 ⑤ $\lim \frac{3n^2 - 6n^3 + 1}{5n - 12n^3}$

2 ⑥ Repr. graf. $f: \mathbb{R} \rightarrow \mathbb{R}$.

$$x \rightarrow \begin{cases} 1 & x < -2 \\ |x| & -2 \leq x < 1 \\ \frac{x+1}{2} & x \geq 1 \end{cases}$$

1.5 ⑦ Dominio de $\alpha(x) = \frac{1}{x+5} - \sqrt{x+6}$

Para elavar calificación.

①

i) Calcular el límite de la sucesión

$$a: \mathbb{N} \rightarrow \mathbb{R} \\ n \rightarrow \begin{cases} \frac{(-1)^n}{n} & n \text{ par} \\ 0 & n \text{ impar} \end{cases}$$

ii) Id.

$$b: \mathbb{N} \rightarrow \mathbb{R} \\ n \rightarrow \begin{cases} \frac{(-1)^n}{n} & n \text{ par} \\ 10^{-6} & n \text{ impar} \end{cases}$$

② Dominio de $f(x) = \sqrt{\sqrt{x-1} + \sqrt{x-2}} - \frac{1}{(x^2-4)(x-7)}$

Segundo A

Fecha: J.6.2.1986

Tiempo: 50'

- 1p. ① Definición de función continua en un punto
- 2p. ② Demostrar que cualquier función polinómica es continua
- 1p. ③ Hallar el dominio de $\alpha(x) = \frac{2}{x^2+x}$ y $\beta(x) = \sqrt{x-9}$
- 2p. ④ Calcular $\lim_{x \rightarrow \infty} \left(1 + \frac{5}{x^2+1}\right)^{2x^2}$
- 2p. ⑤ Calcular $\lim_{x \rightarrow 1} \frac{3x^4 - 2x^3 + 3x^2 - 2x - 2}{4x^3 - 5x^2 + 1}$
- 2p. ⑥ Calcular $\lim_{x \rightarrow \infty} \frac{\sqrt{x^4+1} + x}{\sqrt{4x^6+5} + x^2}$

Examen para subir calificación

- ① Hallar el dominio de $f(x) = \sqrt{x-1} + \sqrt{1-x}$
- ② $\lim_{x \rightarrow \infty} \left(\frac{\sqrt{4x^2+5}}{\sqrt[3]{125x^3+7}} - \frac{2x+1}{5x} \right)$
- ③ Definir una función con infinitos puntos de discontinuidad

Segundo B

Fecha: V.31.1.1986

Tiempo: 50'

- 1p. ① Definición de límite ^{finito} de una función en un punto
- 2p. ② Demostrar que si $f, g \in \mathcal{C}(\mathbb{R})$ entonces $f+g \in \mathcal{C}(\mathbb{R})$
- 1p. ③ Hallar el dominio de $\alpha(x) = \frac{1}{4x-12}$ y $\beta(x) = \sqrt{x-2}$
- 2p. ④ Calcular $\lim_{x \rightarrow 0} (1 + x^2 + x)^{\frac{2}{x^2}}$
- 2p. ⑤ Calcular $\lim_{x \rightarrow 2} \frac{x^4 - 2x^3 + x^2 + 3x - 10}{2x^3 - 7x^2 + 9x - 6}$
- 2p. ⑥ Calcular $\lim_{x \rightarrow \infty} (\sqrt{x+1} - \sqrt{x+3})$

Examen para subir calificación

- ① $\lim_{x \rightarrow \infty} \frac{\sqrt{4x^2+1} - \sqrt{x}}{\sqrt[3]{27x^3+1} - \sqrt{x+1}}$
- ② Definir una función que sólo tenga 3 puntos de discontinuidad, uno de cada tipo
- ③ Hallar el dominio de la función $f(x) = \frac{1}{\sqrt{x}}$

Segundo A

Fecha: x.23.4.1986

Tiempo: 50'

1p. ① Logaritmo de una raíz

1.5p ② Tomar logaritmo en la expresión $\frac{\sqrt[5]{13^8} \cdot \sqrt{10^{10}}}{23^{17}}$

" ③ Resolver la ecuación $9^x - 3^{x+2} = 486$

" ④ Resolver la ecuación $2 \log x + 1 = \log x^3 + \log 2$

" ⑤ Demostrar que $1 + \operatorname{ctg}^2 \alpha = \operatorname{cosec}^2 \alpha$

" ⑥ Sabiendo que $\operatorname{tg} \alpha = -4$ y $\alpha \in (90^\circ, 180^\circ)$, calcular los demás ratios trig. de α

" ⑦ Calcular sen , cos y tg de $\frac{23}{6}\pi$, pasándolo antes a grados sexagesimales.

Para subir calificación

$$\begin{cases} \textcircled{1} & \log(x+y) + \log(x-y) = \log 33 \\ & e^x = \frac{e''}{e^2} \end{cases}$$

② Encuentra todos los ángulos que verifiquen $\operatorname{tg} \alpha = 1$

Segundo B

Fecha: 11.15.4.1986 Tiempo: 50'

1.p (1) Definición de logaritmo

3.p (2) Tomar logaritmos en la expresión $\frac{\sqrt[7]{23^5} \cdot \sqrt[15]{10^2}}{17^{13}}$

" (3) Resolver la ecuación $4^x - 2^{x+3} = -16$

" (4) Resolver la ecuación $2 \log x - \log \frac{x}{2} = 3$

" (5) Def. de seno, coseno y tg en la circunf. trigonométrica

" (6) Sabiendo que $\operatorname{tg} \alpha = 2$ y $\alpha \in (180^\circ, 270^\circ)$, calcular las demás razones trigonométricas de α

" (7) Calcular sen , cos y tg de 502° sabiendo que $\operatorname{sen} 38^\circ = 0.62$ y $\operatorname{cos} 38^\circ = 0.79$

Para subir calificación


$$(1) \begin{cases} \log(x+y) + \log(x-y) = \log 33 \\ e^x = \frac{e''}{e^7} \end{cases}$$

(2) Encuentra todos los ángulos que puedes que verifiquen $\operatorname{tg} \alpha = 1$

Segundo A

Fecha: L. 2. 6. 1986

Tiempo: 50'

1.5p ① 

1.5p ② Derivada de la función \arcsen

-1 c.e. ③ $y = a^x$, $z = f(m)g(m)h(x)$, $t = \cos(f(m))$

-0.5 c.e. ④ $a = \sqrt[3]{x^5}$, $b = \operatorname{sen} \sqrt{x}$

2p. ⑤ $p = \ln(x + \sqrt{x^2 + \operatorname{tg} x^3})$

1.5p ⑥ $q = \operatorname{sen}^3 x^4$

1.5p ⑦ $\alpha = (\operatorname{tg} x)^{x^2+x}$

2p. ⑧ En forma implícita: $\frac{\operatorname{Sen} x}{\operatorname{Cos} x} = e^x + \ln(xy)$

Para subir nota

① Encontrar una función $f(x)$ cuya derivada sea $f'(x) = x^3 + x^2 + 1$

¿Se pueden encontrar más?


② Si $y = \log_x 2$, calcule y'

③ Siendo $g(x) = x e^x$, calcular $g^{(n)}(x)$

Segundo B

Fecha: X. 4. 6. 1986

Tiempo: 50'



1.5p (2) Derivada de $y = \ln x$. Demostración

-1 c.e. (3) $y = \log_a x$, $z = \arccos x$, $t = a^{f(x)}$

-0.5 c.e. (4) $a = \sin \ln x$, $b = \sqrt[5]{\arctg x}$

2p. (5) $P = \operatorname{tg} \left(x^2 + \log_3 \left(e^{x^2} + \frac{1}{x} \right) \right)$

1.5p (6) $f = \cos^2 \sin^3 x$

1.5p (7) $\alpha = (\ln x)^{\frac{1}{x}}$

2p. (8) En forma implícita $e^y \cdot \sin x^2 \cdot y^3 = 5^{x^2 y^2}$

Para subir nota

(1) Encuentra una función f cuya derivada sea $f'(x) = \sin x + \cos x + x^2$
¿Se puede encontrar más?

5p. (2) Si $g(x) = e^{2x}$, calcula $g^{(n)}(x)$

5p. (3) Si $h(x) = \frac{\sin(e^x)}{x^e}$, calcula $h''(x)$

Segundo de B.U.P. Examen de septiembre

Hay que aprobar cada una de las tres partes

Parte A

- 0.5p ① Definiciones de sucesión convergente y divergente
- 1p ② Definición de función continua en un punto. Definición de función continua
- 1p ③ Siendo $f: \mathbb{R} \rightarrow \mathbb{R}$ y $g: \mathbb{R} \rightarrow \mathbb{R}$
 $x \rightarrow x^2 + \frac{x-1}{2}$ y $x \rightarrow 4x+2$, hallar $g \circ f$
- 1p ④ Hallar las sucesiones inversas de $a_n = n^2 + n - 6$ y $b_n = \frac{1}{7n^3}$
- 1p ⑤ Decir el dominio de la función $\alpha(x) = \frac{1}{x^2+x-6} + \sqrt{x-1}$
- 2p ⑥ $\lim_{x \rightarrow 3} \frac{2x^3 - 5x^2 - 4x + 3}{x^4 - 3x^3 - 3x^2 + 11x - 6}$ 2p ⑦ $\lim_{n \rightarrow \infty} \left(\frac{n+5}{n+1} \right)^{\frac{n}{2}}$
- 1.5p ⑧ $\lim_{x \rightarrow \infty} \frac{x^2 + \sqrt{x}}{2x^2 + 3}$, $\lim_{x \rightarrow \infty} \frac{x+1}{x^2 + 3x}$

Parte B

- 1p ① Definición de logaritmo. Logaritmo de un producto
- 2p ② Enunciar la relación trigonométrica. Dar dos demostraciones
- 1p ③ Tomar logaritmos decimales en las expresiones $\sqrt[5]{27^3 \cdot \sqrt{15}}$ y $\frac{31^5 \cdot \sqrt[7]{8}}{13^8 \cdot 10000}$
- 1p ④ Resolver la ecuación $36^x - 6^{x+1} = 1080$
- 1.5p ⑤ Resolver la ecuación $1 + \log(4x) = \log(8x^2) - \log 5$
- 1.5p ⑥ Hallar todas las razones trigonométricas de α sabiendo que $\operatorname{tg} \alpha = -4$ y $\alpha \in (\frac{\pi}{2}, \pi)$
- 2p ⑦ Calcular sen , cos y tg de 837° sabiendo que $\operatorname{sen} 27^\circ = 0.45$ y $\operatorname{cos} 27^\circ = 0.89$

Parte C

- 2p ① Derivada de $y = \ln x$ y de $y = \operatorname{arcsen} x$. Demostración
- 1.5p ② Derivar $a = \sqrt[3]{x^2} + \frac{1}{x}$; $b = \operatorname{sen} \ln \sqrt{3x}$; $c = \operatorname{tg} 3x \cdot 2^x$
- 3p ③ Derivar $d = \frac{\cos x^2}{x+e^x}$; $e = \log(\operatorname{arctg} 5^{x+1})$; $f = \operatorname{sen}^2 \operatorname{cos}^3 \operatorname{tg}^4 x$
- 1.5p ④ Calcular la derivada de la función $y = (x+5)^{\operatorname{sen} 3x}$
- 2p ⑤ Derivar en forma implícita la expresión

$$(\operatorname{sen} x) e^{y^2} (\sqrt{y}) = x^7 y^5 + \frac{\pi}{4}$$

Matemáticas Segundo de B.U.P. Septiembre de 1987

El examen constará de 6 partes independientes, en las que habrá que demostrar un dominio suficiente. En todas ellas habrá preguntas de teoría, en las que se buscarán los conceptos fundamentales del curso. Los problemas en los que hay que hacer especial atención se enuncian integrados en cada una de las seis partes:

Parte A Teoría de conjuntos

Operaciones unión, intersección y diferencia de conjuntos, utilizando los distintos tipos de intervalos de \mathbb{R} . Operaciones suma, producto, composición e inversión de funciones reales de variable real.

Parte B Límites de sucesiones

Calcular términos de una sucesión conocido el término general, deducir éste a partir de los primeros. Operaciones suma, diferencia, producto, inversión y cociente de sucesiones. Cálculo de límites de sucesiones.

Parte C Límites de funciones

Representación gráfica de funciones reales de variable real definidas a trozos. Cálculo del dominio de una función. Cálculo de límites de funciones. Encontrar los puntos de discontinuidad de una función.

Parte D Las funciones exponencial y logarítmica

Representación gráfica de ambas. Cálculos con logaritmos. Resolución de ecuaciones exponenciales y logarítmicas.

Parte E Trigonometría


Conocida una razón trigonométrica de un ángulo y el cuadrante al que pertenece, hallar todas las demás. Sabiendo las razones trigonométricas de los ángulos entre 0° y 45° , hallar las de cualquier otro. Resolución de triángulos rectángulos.

Parte F Cálculo diferencial

Cálculo de la derivada de una función en un punto por utilización directa de la definición. Cálculo de las funciones derivada primera y sucesivas de una función utilizando las reglas de derivación. Derivación logarítmica. Derivación en forma implícita. Estudio del crecimiento y la convexidad de una función en un punto. Determinación de los máximos y mínimos relativos y puntos de inflexión de una función.

Nota Los alumnos de tercero de B.U.P. no tendrán obligación de contestar las preguntas de teoría ni ciertos problemas que no entraron en su programa, pero podrán hacerlo si así lo desean.

El profesor de la asignatura



Fdo.: Pedro Reina

- * (A) Calcular $[(3, \infty) \cap (-\infty, 4)] \cup [4, 5]$; $[(0, 8) - (6, 10)] \cup \{0\}$
- (A2) Siendo $f, g: \mathbb{R} \rightarrow \mathbb{R}$ definidas por $f(x) = 2x+1$, $g(x) = x^2-1$, calcular $f \circ g$, $g \circ f$, $f \circ g \circ f$
- (B1) Las sucesiones a_n , b_n y c_n tienen como primeros términos los que se indican:
 $a \rightarrow 10, 8, 6, 4, \dots$; $b \rightarrow 4, 9, 16, 25, \dots$, $c \rightarrow -7, -4, -1, \dots$
 Hallar sus términos generales, y (si se puede) $\frac{1}{a_n}$, $\frac{1}{b_n}$, $\frac{1}{c_n}$, $2a_n - b_n c_n$
- * (B2) Definición de sucesión acotada y sucesión convergente. ¿Qué relación hay entre ambas?
- (B3) Estudiar la monotonía y la acotación de $a_n = 1 - \frac{1}{n}$
- (B4) $\lim_{n \rightarrow \infty} (\frac{1}{n} - 2n^2 + 5n^3 - n^4)$; $\lim_{n \rightarrow \infty} (\frac{n+1}{n+5})^{2n}$; $\lim_{n \rightarrow \infty} \frac{2n - n^2}{n^2 + \frac{1}{n}}$; $\lim_{n \rightarrow \infty} \frac{\sqrt{9n^2+1}}{\sqrt{4n^2-n}}$
- (C1) Definición de dominio de una función. Poner 3 ejemplos. Calcular el de $f(x) = \sqrt{x-3} + \frac{1}{x^2-7x+1}$
- * (C2) Definición de función continua en un punto. Ejemplos gráficos de puntos de discontinuidad.
- (C3) $\lim_{x \rightarrow 0} (1+2x)^{\frac{5}{x}}$; $\lim_{x \rightarrow 1} \frac{x^3 - x^2 + x - 1}{2x^2 - 3x + 1}$; $\lim_{x \rightarrow 1} (\frac{2x+1}{x+1})^{x-1}$; $\lim_{x \rightarrow \infty} (\sqrt{x+1} - \sqrt{x})$
- * (D1) Logaritmo de un cociente.
- (D2) Representar gráficamente las funciones $y = 3^x$, $y = \log_2 x$, $y = (\frac{1}{2})^x$
- (D3) Resolver las ecuaciones $2^{2x-4} = 1024$; $9^x + 19 = 3^{x-1} + 3^{x-2}$ (hay dos soluciones, dar una)
- (D4) Resolver las ecuaciones $\log_x 81 = 4$, $\log_2 (\frac{1}{64}) = x$, $-3 + \log x^2 = \log \frac{x}{2} - \log 5$
- * (E1) Definir todas las razones trigonométricas de un ángulo en la circunferencia trigonométrica.
- (E2) Calcular seno y coseno de 170° y 350° sabiendo que $\sin 10^\circ = 0.17$, $\cos 10^\circ = 0.98$
- (E3) Sabiendo que $\alpha \in (\frac{\pi}{2}, \pi)$ y $\operatorname{cosec} \alpha = 2$, hallar todas sus razones trigonométricas
- (E4) Resolver los triángulos 
- * (F1) Definición de derivada de una función en un punto. Interpretación geométrica.
- * (F2) Calcular $f'(3)$ a partir de la definición de derivada siendo $f(x) = x^2 - 1 + x$
- (F3) Derivar las siguientes funciones: $y = \sqrt{x} + x^7 + \sqrt[5]{x} + \log_4 x + \arctg x + 7^x$
- $y = \frac{\operatorname{tg} 2x}{e^{5x}} + (\ln x) \operatorname{arcsen} x (3^{x^2}) + \ln \sqrt{\ln \operatorname{arcsen} x} + \operatorname{sen}^2 x^2 + x e^{5x}$; $y = (x+1)^{\cos x}$
- (F4) Calcular las 3 primeras derivadas de $y = e^{3x} + \operatorname{sen} x \ln x + \frac{x^3}{6}$
- * (F5) Estudiar el crecimiento y la convexidad de $g(x) = x^3 - x$ en $x = -1$ y $x = 2$

Los alumnos de Tercero de B.U.P. NO contesten las preguntas con "*"