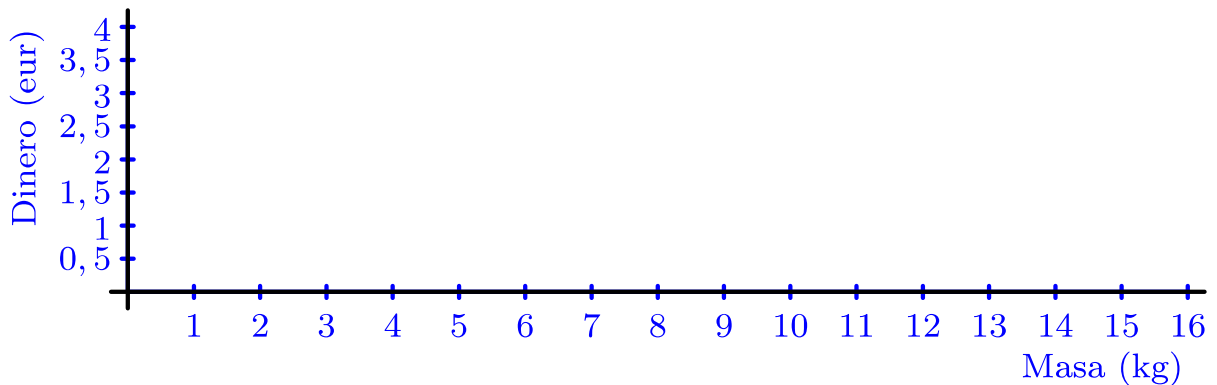


Enunciados

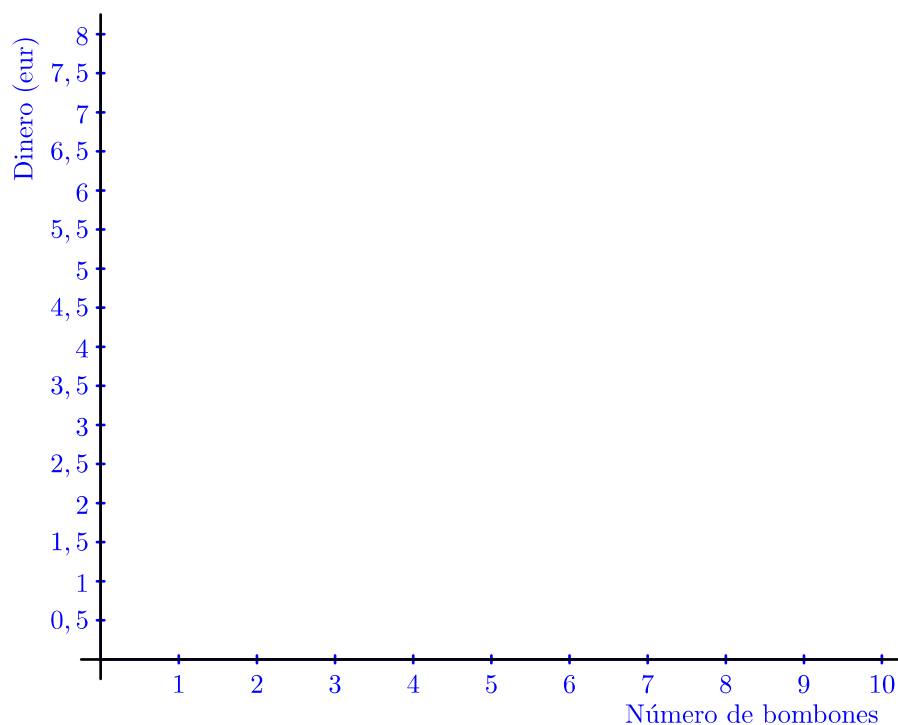
- ① Una panadería necesita comprar harina. Por un saco de 10 kilogramos le cobran 2,5 euros. Rellena la siguiente tabla de valores y represéntala gráficamente.

Magnitud	Unidad	Valores						
Masa	kg	4	6	8	10	12	14	16
Dinero	eur							



- ② En una tienda venden bombones de calidad. Te cobran 0,5 euros por la caja en la que ponen los bombones y 0,75 euros por cada bombón. Rellena la siguiente tabla de valores y represéntala gráficamente.

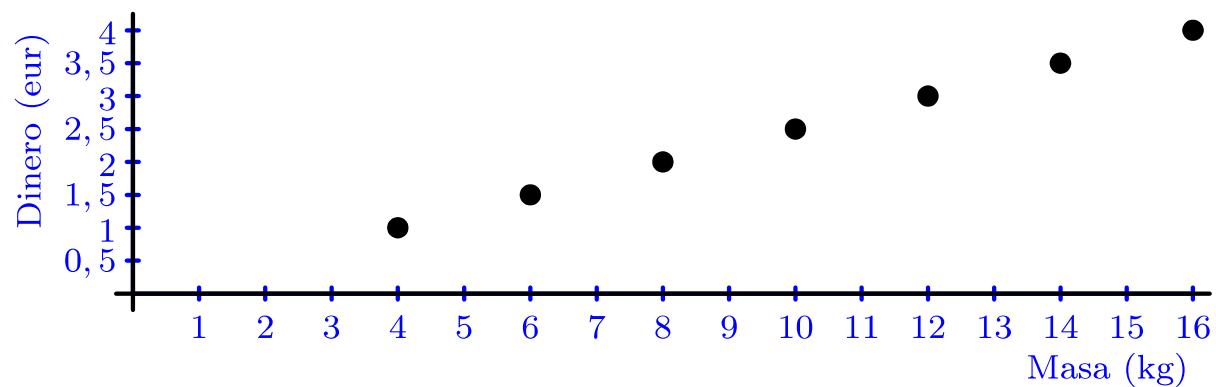
Magnitud	Unidad	Valores				
Núm. bombones	sin unidad	2	4	6	8	10
Dinero	eur					



Soluciones

①

Magnitud	Unidad	Valores						
Masa	kg	4	6	8	10	12	14	16
Dinero	eur	1	1,5	2	2,5	3	3,5	4



②

Magnitud	Unidad	Valores				
Núm. bombones	sin unidad	2	4	6	8	10
Dinero	eur	2	3,5	5	6,5	8

